



# SCIENCE GRADE 5 PRACTICE TESTS



INTERNATIONAL  
CURRICULUM



แนวข้อสอบวิทยาศาสตร์

สำหรับนักเรียนโรงเรียนนานาชาติ

✔ พร้อมเฉลย



Living Things



Materials



Matter



Energy



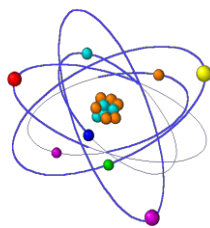
Earth & Space

เรียบเรียงโดย  
ผศ.สุชาติ สุภาพ

ราคา

99

บาท



*Science Grade 5 Practice Tests*  
แนวข้อสอบวิทยาศาสตร์  
สำหรับนักเรียนโรงเรียนนานาชาติ  
พวมเฉลย

พิมพ์และจัดจำหน่ายโดย  
สุชาติ สุภาพ

---

133/471 หมู่ 2 (ติดกับ สนง.ที่ดิน บางบัวทอง) ต.พิมลราช อําเภอบางบัวทอง จังหวัด  
นนทบุรี 11110

E - mail [suchart11111@gmail.com](mailto:suchart11111@gmail.com)

พิมพ์ที่ หจก.สปส 1999 ม.เพชรอนันต์ เขตคันนายาว กรุงเทพฯ ๑ 10230

## คำนำ

หนังสือเล่มนี้ จัดทำขึ้นเพื่อช่วยให้นักเรียนโรงเรียนนานาชาติได้ฝึกฝนความเข้าใจในแนวคิดพื้นฐานของฟิสิกส์ พร้อมทั้งเตรียมความพร้อมสำหรับการสอบในหลักสูตรนานาชาติ หรือหลักสูตรที่ใช้ภาษาอังกฤษเป็นหลัก โดยเนื้อหาในเล่มมุ่งเน้นทักษะสำคัญที่จำเป็นสำหรับการเรียนฟิสิกส์ในระดับมัธยมศึกษาตอนปลาย ข้อสอบในหนังสือเล่มนี้ได้รับการออกแบบให้มีความหลากหลาย ทั้งคำถามเชิงแนวคิด คำถามวิเคราะห์ และคำถามที่เชื่อมโยงกับสถานการณ์จริง เพื่อช่วยให้นักเรียนเข้าใจหลักการทางฟิสิกส์อย่างแท้จริง ไม่ใช่เพียงการจดจำสูตร แต่เป็นการพัฒนาทักษะการคิดเชิงวิทยาศาสตร์ ซึ่งเป็นพื้นฐานสำคัญสำหรับการศึกษาวิชาฟิสิกส์ ผู้จัดทำหวังเป็นอย่างยิ่งว่า หนังสือเล่มนี้จะเป็นเครื่องมือที่ช่วยให้นักเรียนฝึกฝนทักษะทางฟิสิกส์ เพิ่มความมั่นใจในการทำข้อสอบ และสร้างพื้นฐานที่แข็งแรงสำหรับการเรียนวิทยาศาสตร์ในระดับที่สูงขึ้น ขอให้นักเรียนทุกคนสนุกกับการเรียนรู้ฟิสิกส์ และค้นพบความมหัศจรรย์ของกฎธรรมชาติผ่านการฝึกคิดและการตั้งคำถามอย่างนักวิทยาศาสตร์

สำหรับท่านที่อยากได้ไฟล์ PDF. ของหนังสือนี้ เพื่อจะได้สามารถปริ้นท์เอกสารได้ สามารถสั่งซื้อได้ที่ ไลน์หรือ facebook ของผม



ถ้านักเรียนสนใจหนังสือนี้ในรูปแบบ E-BOOK ก็มีจำหน่ายที่เว็บไซต์ ร้านนายอินทร์ , MEB , อุกปี, ซีเอ็ด , hystexts , ศูนย์หนังสือจุฬาฯ และDDebook

สำหรับท่านที่สนใจหนังสือของกระผมแต่หาซื้อตามร้านหนังสือทั่วไปไม่ได้ สามารถซื้อออนไลน์ที่แอปต่าง ๆ โดยสแกน QR โค้ดข้างล่างนี้

(ที่ช้อปปีมีหนังสือมากที่สุด)



SHOPEE



Lazada



TikTok

สุชาติ สุภาพ

มือถือ 083-920-3825

## สารบัญ


	หน้า
แนวข้อสอบ วิชาวิทยาศาสตร์(Grade 5)ของโรงเรียนนานาชาติ ชุดที่ 1	4
แนวข้อสอบ วิชาวิทยาศาสตร์(Grade 5)ของโรงเรียนนานาชาติ ชุดที่ 2	21
แนวข้อสอบ วิชาวิทยาศาสตร์(Grade 5)ของโรงเรียนนานาชาติ ชุดที่ 3	41

%%%%%%%%%

## แนวข้อสอบ วิชาวิทยาศาสตร์ (Grade 5) ของโรงเรียนนานาชาติ ชุดที่ 1

### Section : Scientific Investigation

Q1. A student tests which soil helps plants grow fastest. What should remain the same in the experiment?



A Type of soil

B Amount of sunlight

C Type of plant

D Color of pot

Answer: C

Explanation: The plant type must stay the same so only the soil type affects growth.

Q2. Which tool is best for measuring liquid volume?



A Balance

B Ruler

C Thermometer

D Graduated cylinder

Answer: D

Explanation: A graduated cylinder measures liquid volume accurately.

Q3. A thermometer is used in an experiment. What does it measure?

A Length B Temperature C Mass D Volume

Answer: B

Explanation: A thermometer measures temperature.

Q4. Why do scientists repeat experiments several times?

A To change results

B To increase reliability

C To reduce observations

D To avoid recording data

Answer: B Explanation: Repeating experiments improves accuracy and reliability.

Q5. A scientist predicts the result before doing an experiment. This prediction is called a:



A Variable B Hypothesis C Data table D Conclusion

Answer: B Explanation: A hypothesis is a testable prediction.

Q6. A line graph is best used to show:



A Changes over time


B Colors of objects

C Types of materials

D Pictures of animals

Answer: A Explanation: Line graphs show trends and changes over time.

Q7. The factor changed by the scientist is called the:



A Dependent variable

B Independent variable

C Constant variable

D Control result