



Maths

Test Problems

กลุ่มสาระการเรียนรู้คณิตศาสตร์

ชั้นประถมศึกษาปีที่ 1

ประกอบด้วย

- ข้อสอบตามมาตรฐานตัวชี้วัด
- ข้อสอบวัดผลการเรียนรู้ปลายภาคเรียนที่ 1
- ข้อสอบวัดผลการเรียนรู้ปลายภาคเรียนที่ 2
- มีข้อสอบแบบเลือกตอบ เติมคำ แสดงวิธีทำ

1

Maths Test Problems U.1

เขียนโดย ฝ่ายวิชาการ สำนักพิมพ์ฟิสิกส์เซ็นเตอร์

ISBN (E-book) 2026-0326-0042-9

จำหน่ายอีบุ๊ก เมษายน 2569

ราคา 80 บาท

สงวนลิขสิทธิ์ตามพระราชบัญญัติลิขสิทธิ์ (ฉบับเพิ่มเติม) พ.ศ. 2558

เนื้อหา รูปเล่ม และภาพประกอบในหนังสือเล่มนี้เป็นลิขสิทธิ์ของสำนักพิมพ์ฟิสิกส์เซ็นเตอร์
ห้ามคัดลอก ยกเว้นได้รับอนุญาต

บรรณาธิการ กวียา เนาวประทีป

ปก/รูปเล่ม ฝ่ายศิลปกรรม สำนักพิมพ์ฟิสิกส์เซ็นเตอร์

จัดทำโดย

ทจก. สำนักพิมพ์ฟิสิกส์เซ็นเตอร์

เลขที่ 45 ซอยจรัญสนิทวงศ์ 40 ถนนจรัญสนิทวงศ์

แขวงบางยี่ขัน เขตบางพลัด กรุงเทพฯ 10700

โทรศัพท์ : 0-2433-7755-7 โทรสาร : 0-2433-7703

จัดจำหน่ายในรูปแบบสิ่งพิมพ์อิเล็กทรอนิกส์โดย

บริษัท เกรท มีเดีย เอเจนซี จำกัด

85 ซอยบรมราชชนนี 75 แขวงบางระมาด เขตตลิ่งชัน กรุงเทพฯ 10170

โทร. 0-2433-7755-7, 086-330-6425

คำนำ

หนังสือชุด “**Maths Test Problems** ชั้น ป. 1” เป็นหนังสือชุดข้อสอบที่จัดทำขึ้นเพื่อมุ่งพัฒนาสมรรถภาพการเรียนรู้คณิตศาสตร์ของนักเรียนตามสาระ/มาตรฐานการเรียนรู้ที่กำหนดไว้ในหลักสูตรแกนกลางการศึกษาขั้นพื้นฐาน ซึ่งได้แก่ จำนวนและการดำเนินการ การวัด เรขาคณิต พีชคณิต การวิเคราะห์ ข้อมูล และความน่าจะเป็น ตลอดจนทักษะและกระบวนการทางคณิตศาสตร์

ลักษณะสำคัญของหนังสือชุดนี้ ประกอบด้วย ข้อสอบปลายภาคเรียนที่ 1 และปลายภาคเรียนที่ 2 ทั้งแบบปรนัยและอัตนัยให้นักเรียนได้ทบทวนการทำข้อสอบก่อนสอบจริง พร้อมเฉลยทุกข้อทุกตอน เพื่อให้นักเรียนได้ตรวจสอบความถูกต้องได้ด้วยตัวเอง

ผู้เขียนหวังเป็นอย่างยิ่งว่าหนังสือ “**Maths Test Problems**” เล่มนี้ จะช่วยให้นักเรียนมีความพร้อม และความมั่นใจในการสอบมากยิ่งขึ้น และช่วยเสริมสร้างความสำเร็จตามความคิดหวังของนักเรียน ผู้ปกครอง ครู อาจารย์ ตลอดจนผู้เกี่ยวข้องต่างๆ ได้เป็นอย่างดี

ฝ่ายวิชาการ สำนักพิมพ์ฟิสิกส์เซ็นเตอร์

สารบัญ

ชุดที่ 1	การเขียนและการอ่านจำนวนนับ 1 ถึง 5 และ 0	6
ชุดที่ 2	การเปรียบเทียบและเรียงลำดับจำนวน 1 ถึง 5 และ 0	8
ชุดที่ 3	การเขียนและการอ่านจำนวนนับ 6 ถึง 9	11
ชุดที่ 4	การเปรียบเทียบและเรียงลำดับจำนวน 6 ถึง 9	13
ชุดที่ 5	การบวกจำนวนที่มีผลบวกไม่เกิน 9	16
ชุดที่ 6	โจทย์ปัญหาการบวกที่มีผลบวกไม่เกิน 9	19
ชุดที่ 7	การลบจำนวนที่มีตัวตั้งไม่เกิน 9	21
ชุดที่ 8	โจทย์ปัญหาการลบจำนวนที่มีตัวตั้งไม่เกิน 9	23
ชุดที่ 9	การเขียนและการอ่านจำนวนนับ 10 ถึง 20	25
ชุดที่ 10	การเปรียบเทียบและเรียงลำดับจำนวน 10 ถึง 20	29
ชุดที่ 11	การบวกและการลบจำนวนที่มีผลลัพธ์และตัวตั้งไม่เกิน 20	31
ชุดที่ 12	โจทย์ปัญหาการบวกและการลบจำนวนที่มีผลลัพธ์และตัวตั้งไม่เกิน 20	33
ชุดที่ 13	บอกความยาวโดยใช้หน่วยที่ไม่ใช่หน่วยมาตรฐาน	37
ชุดที่ 14	บอกน้ำหนักโดยใช้หน่วยที่ไม่ใช่หน่วยมาตรฐาน	43
ชุดที่ 15	บอกปริมาตรและความจุโดยใช้หน่วยที่ไม่ใช่หน่วยมาตรฐาน	46
ชุดที่ 16	การเขียนและการอ่านจำนวนนับ 21 ถึง 100	49
ชุดที่ 17	การเปรียบเทียบและเรียงลำดับจำนวน 21 ถึง 100	52
ชุดที่ 18	จำแนกรูปสามเหลี่ยม รูปสี่เหลี่ยม รูปวงกลม รูปวงรี	54
ชุดที่ 19	บอกช่วงเวลา จำนวนวันและชื่อวันในสัปดาห์	57
ชุดที่ 20	บวก ลบ จำนวนนับไม่เกินหนึ่งร้อยและศูนย์	59

ชุดที่ 21	บทกลบทระคนของจำนวนนับไม่เกินหนึ่งร้อยและศูนย์	61
ชุดที่ 22	วิเคราะห์และหาคำตอบของโจทย์ปัญหาการบวกและการลบของจำนวนนับไม่เกินหนึ่งร้อยและศูนย์	63
ชุดที่ 23	โจทย์ปัญหาหระคนของจำนวนนับไม่เกินหนึ่งร้อย	67
ชุดที่ 24	บอกจำนวนและความสัมพันธ์ในแบบรูปของจำนวนที่เพิ่มขึ้นทีละ 1 ทีละ 2 และลดลงทีละ 1	71
ชุดที่ 25	บอกรูปและความสัมพันธ์ในแบบรูปของรูปที่มีรูปร่าง ขนาด หรือสีที่สัมพันธ์กันอย่างไรอย่างใดอย่างหนึ่ง	73
	ข้อสอบปลายภาคเรียนที่ 1	76
	ข้อสอบปลายภาคเรียนที่ 2	83

● ข้อสอบวัดผลการเรียนรู้ตามตัวชี้วัด ●

ชุดที่ 1 การเขียนและการอ่านจำนวนนับ 1 ถึง 5 และ 0

ตอนที่ 1 ให้ใช้ดินสอระบายใน ○ หน้าคำตอบที่ถูกต้องให้เต็มวง (5 คะแนน)

1. ข้อใดแสดงจำนวนห้า



2.  เขียนแทนด้วยตัวเลขใด

① 2

② 3

③ 4

3.  เขียนแทนด้วยตัวเลขใด

① ๕

② ๔

③ ๓

4. ๓ อ่านว่าอย่างไร

① สอง

② สาม

③ สี่










5. 0 1 __ 3 __ 5 เติมตัวเลขใดลงในช่องว่าง

① 2, 4

② 3, 4

③ 4, 5

ตอนที่ 2 เขียนตัวเลขฮินดูอารบิกและตัวเลขไทยแสดงจำนวนภาพลงใน
(5 คะแนน)

ตัวเลขฮินดูอารบิก		ตัวเลขไทย	
1.	 <input type="text"/>	6.	<input type="text"/>
2.	 <input type="text"/>	7.	 <input type="text"/>
3.	 <input type="text"/>	8.	 <input type="text"/>
4.	 <input type="text"/>	9.	 <input type="text"/>
5.	 <input type="text"/>	10.	 <input type="text"/>

สรุปผลการประเมิน

ได้ / 10 คะแนน ผ่าน ไม่ผ่าน
 ระดับคุณภาพ 9-10 ดีมาก 8 ดี 6-7 พอใช้
 ต่ำกว่า 6 ต้องซ่อมเสริม

ข้อเสนอแนะ

 ลงชื่อ ผู้ประเมิน
 / /

8 ○ Maths Test Problems

ชุดที่ 2 การเปรียบเทียบและเรียงลำดับจำนวน 1 ถึง 5 และ 0

ตอนที่ 1 ให้ใช้ดินสอระบายใน ○ หน้าคำตอบที่ถูกต้องให้เต็มวง (5 คะแนน)

1. ข้อใดถูกต้อง

- ① 4 น้อยกว่า 3
- ② 5 น้อยกว่า 4
- ③ 3 น้อยกว่า 5

2. ข้อใดถูกต้อง

- ① ๓ เท่ากับ ๒
- ② 4 เท่ากับ ๔
- ③ ๔ เท่ากับ ๕

3. ตัวเลขใดอยู่ระหว่าง 2 กับ 5

- ① 3 กับ 6
- ② 3 กับ 4
- ③ 4 กับ 5

4. ข้อใดเรียงลำดับจากมากไปน้อย

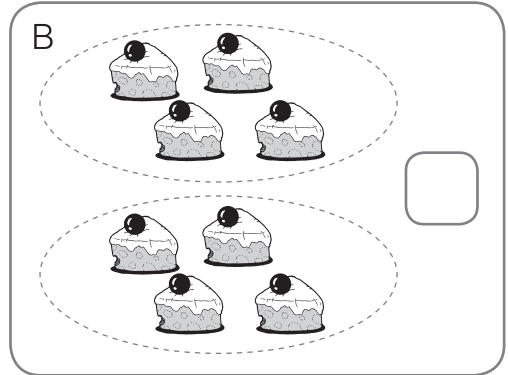
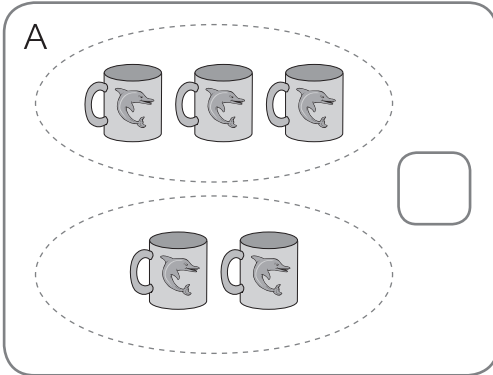
- ① 5, 4, 3, 1, 2, 0
- ② 0, 1, 2, 3, 4, 5
- ③ 5, 4, 3, 2, 1, 0

5. ข้อใดเรียงลำดับจากน้อยไปมาก

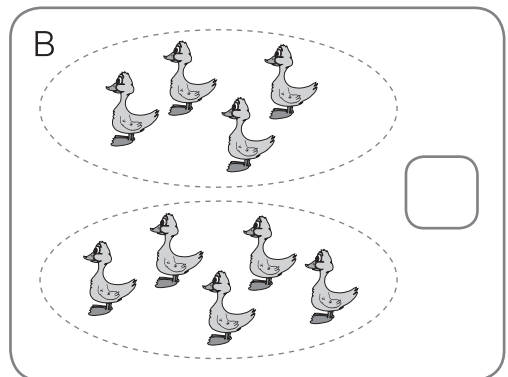
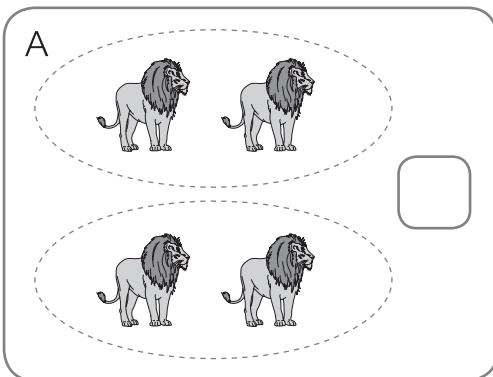
- ① ๐, ๑, ๒, ๓, ๔, ๕
- ② ๕, ๔, ๓, ๒, ๑, ๐
- ③ ๑, ๒, ๓, ๔, ๕, ๐

ตอนที่ 2 เขียน ✓ ลงใน ตามจำนวนต่อไปนี้ (5 คะแนน)

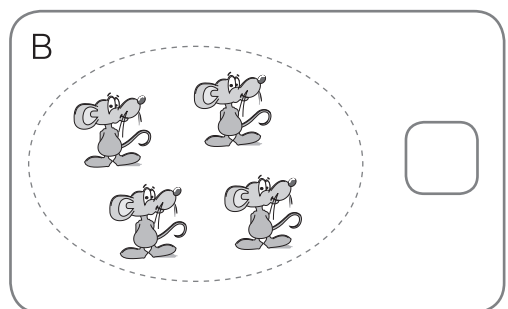
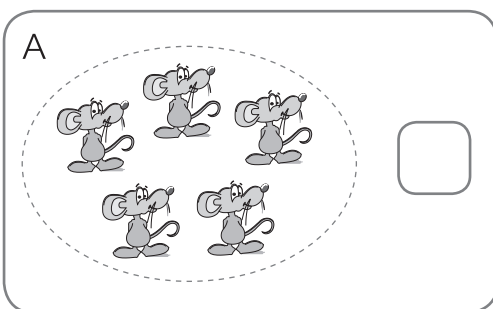
1. เขียน ✓ ลงใน ที่มีจำนวนเท่ากัน



2. เขียน ✓ ลงใน ที่มีจำนวนไม่เท่ากัน

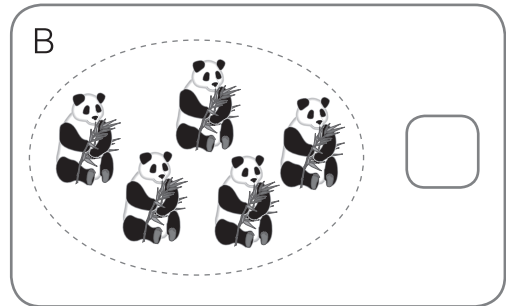



3. เขียน ✓ ลงใน ที่มีจำนวนมากกว่า

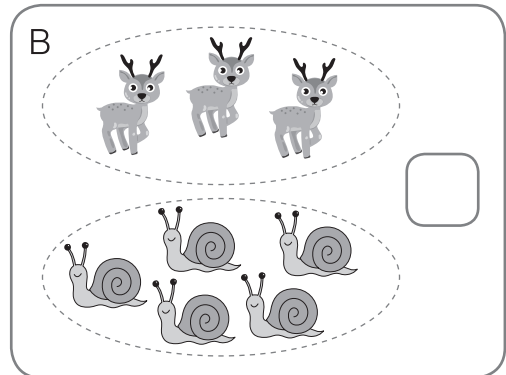
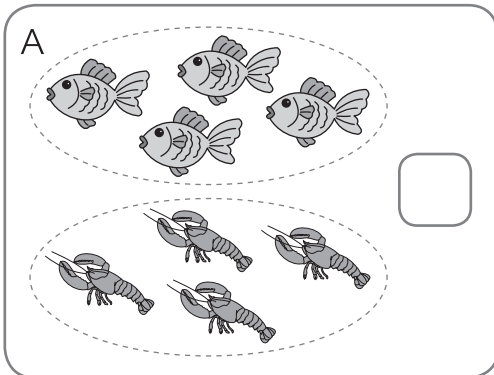


10 ● Maths Test Problems

4. เขียน ✓ ลงใน ที่มีจำนวนน้อยกว่า



5. เขียน ✓ ลงใน ที่มีจำนวนไม่เท่ากัน



สรุปผลการประเมิน

ได้ / 10 คะแนน ผ่าน ไม่ผ่าน

ระดับคุณภาพ 9-10 ดีมาก 8 ดี 6-7 พอใช้

ต่ำกว่า 6 ต้องซ่อมเสริม

ข้อเสนอแนะ

.....

ลงชื่อ ผู้ประเมิน

..... / /

